

## 香港珠心算暨數學精英盃邀請賽

- 注意事項：
1. 計算下列各題，用分數作答的必須約至最簡真分數，否則不予評分。
  2. 所有答案必須清楚寫在答案欄(不用列式)，答案模糊不清的將不予評分。
  3. 全卷共 30 題，每題 1 分，考生必須答對題目內所有答案方可得分。

學生姓名： \_\_\_\_\_

幼稚園組別 (模擬試題)

時限：30 分鐘

甲、算式題

答案欄

1.  $4+3=(?)$

1. \_\_\_\_\_

2.  $3+2=(?)$

2. \_\_\_\_\_

3.  $9-3=(?)$

3. \_\_\_\_\_

4.  $7-2=(?)$

4. \_\_\_\_\_

5.  $23 - ( ? ) = 18$

5. \_\_\_\_\_

6.  $47 - 1 + 9 = ( ? )$

6. \_\_\_\_\_

7.  $43 - 19 - 14 = ( ? )$

7. \_\_\_\_\_

8.  $27 + 16 + 15 = ( ? )$

8. \_\_\_\_\_

9. 從大到小排一排

6

0

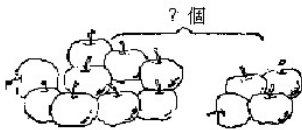
4

9

2

9. \_\_\_\_\_  
 ( ) < >  
 ( ) < >  
 ( )

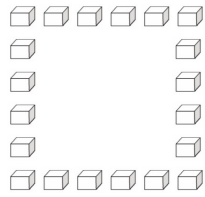
10. 數數有多少




10. \_\_\_\_\_

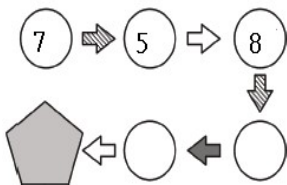
乙、以下為選擇題，請把正確答案 A、B、C、D、E 填在答案欄。

11. 數數有多少？

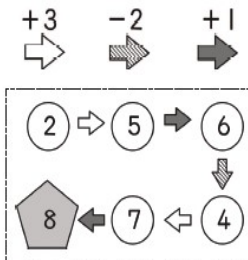


A(16) B(17) C(18) D(19) E(20)

12.  是多少？



例題：



A(9) B(10) C(11) D(12) E(13)

13. 在下面的四個數之間,填上”+”, ”-“使結果是 4

$$4 \bigcirc 3 \bigcirc 2 \bigcirc 1 = 4$$

A(+,-,-) B(+,+,-) C(-,-,+) D(+,-,+) E(-,+,-)

14. 在下面的四個數之間,填上”+”, ”-“使結果是 4

$$9 \bigcirc 8 \bigcirc 7 \bigcirc 6 = 4$$

A(+,-,-) B(+,+,-) C(-,-,+) D(+,-,+) E(-,+,-)

15. 下圖中的鐘表,你知道鐘面上的實際時間是幾時幾分？



A(5:20) B(4:25) C(10:20) D(10:25) E(5:50)

16. 根據規律，找出缺掉的圖案？



A(■) B(▲) C(◆) D(●) E(★)

11. \_\_\_\_\_

12. \_\_\_\_\_

13. \_\_\_\_\_

14. \_\_\_\_\_

15. \_\_\_\_\_

16. \_\_\_\_\_

(幼稚園)

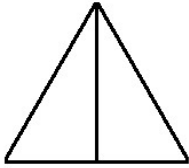
初審

複審

17. 根據規律，找出缺掉的圖案?  
1,3,5,7,9,11,(?),15,17,19  
A(11) B(12) C(13) D(14) E(15)

17. \_\_\_\_\_

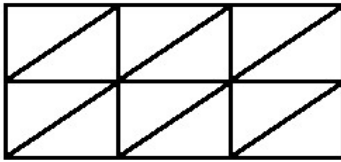
18. 數出圖中三角形的數目?



- A(1) B(2) C(3) D(4) E(5)

18. \_\_\_\_\_

19. 數出圖中三角形的數目?



- A(12) B(13) C(14) D(15) E(16)

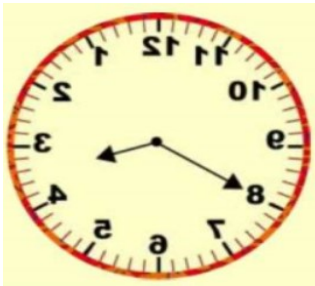
19. \_\_\_\_\_

20. 今天是星期四,五天前是星期幾?

20. \_\_\_\_\_

- A(星期五) B(星期六) C(星期二) D(星期三) E(星期四)

21. 下面是照在鏡子中的兩個鐘表,你知道鐘面上的實際時間是幾時幾分?




- A(8:20) B(3:40) C(4:40) D(3:20) E(4:20)

21. \_\_\_\_\_

丙、思考題



22. 小瑜下午 2 點半上舞蹈課，請畫出時針和分針。

22. \_\_\_\_\_

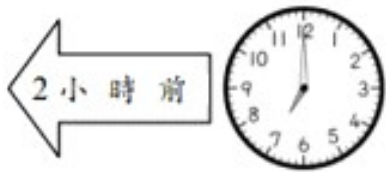


23. 蜘蛛俠有 3 個十元、4 個五元，他共有多少元？

23. \_\_\_\_\_



24. 請畫出下圖標示要求的時間



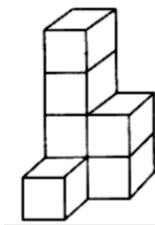
25. 學校有 24 本故事書，借給小朋友 6 本，還剩多少本？

26. 直尺一把\$6，筆記簿一本\$7，媽媽各買一件，共付多少元？

27. 用一張 50 元，請問可以換成（ ? ）個 2 元硬幣？




28. 數數有多少個正方體？



29. 陳同學於 3 月 21 日請病假至 3 月 31 日，他總共病了幾天？

30. 圖中有多少個完整的蘋果？



24. \_\_\_\_\_

25. \_\_\_\_\_


26. \_\_\_\_\_

27. \_\_\_\_\_

28. \_\_\_\_\_


29. \_\_\_\_\_

30. \_\_\_\_\_



(幼稚園)

初審



複審