

香港珠心算暨數學精英盃邀請賽

- 注意事項：
1. 計算下列各題，用分數作答的必須約至最簡真分數，否則不予評分。
 2. 所有答案必須清楚寫在答案欄(不用列式)，答案模糊不清的將不予評分。
 3. 全卷共 30 題，每題 1 分，考生必須答對題目內所有答案方可得分。

學生姓名：_____

小學二年級組別（試題）

時限：30 分鐘

甲、算式題

答案欄


1. 1 米 = () 厘米
2. 在 (?) 裡填上 “>”、“<” 或 “=”。
30 厘米 () 29 厘米
3. $6 \times (?) \div 8 = 6$
4. $6 \times 6 = (?) + 20 - 5$
5. $542 + 729 \times 0 = (?)$ 。
6. 用 9, 0, 3 排成最小的三位數。
7. 4, 5, 8, 10, 12, 15, 16, 20, (?) (?)
8. 下圖形有 (?) 個直角。



1. _____
2. _____
3. _____
4. _____
5. _____
6. _____
7. _____
8. _____
9. _____
10. _____


9. $12 + 23 + 45 + 88 + 77 + 55$

10. 一根香蕉等於多少個蘋果？

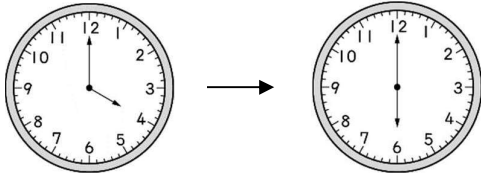


乙、思考題

11. 5 頭大象搬木頭，每頭搬 3 根，還有 2 根木頭沒有搬走。原來一共有多少根木頭？
12. 現在是何時何分？



13. 姐姐考試前看了手表錶時間，考完時也看了手錶時間，問考試時間多長？



14. 一首唐詩有 4 句，每一句有 5 個字，請問這一首唐詩共有幾個字？
15. 家欣一分鐘跳繩跳 9 下，靜香是他的 6 倍，請問靜香一分鐘跳幾下？
16. 阮老師買了一個足球、兩個排球和一個籃球，共需付多少錢？



\$93



\$218



\$157

17. 俊華說：「我只有 16 元。」小加說：「我的錢比你多一倍，還多 8 元。」問小加有多少錢？
18. 爺爺今年 80 歲，姍姍比爺爺少 64 歲，姍姍今年幾歲？
19. 小志已摺好 57 隻紙鶴，再摺幾隻，就會有 99 隻紙鶴？

11. _____

12. _____

13. _____

14. _____

15. _____

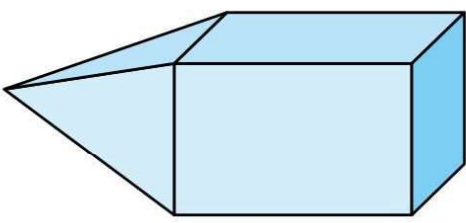
16. _____

17. _____

18. _____

19. _____



20. 妹妹摘了 68 粒士多啤梨，姐姐比她多摘了 26 粒，姐姐共摘了多少粒士多啤梨？
21. 一張抽獎券的號碼是由 5 個相同的數字所組成，這 5 個數字加起來等於 25。問這張抽獎券的號碼是多少？
22. 小敏在晚上 6 時出發往百老匯戲院看電影，她坐車用了 18 分鐘，走到戲院用了 5 分鐘，所以她幾時幾分就到戲院了。
23. 1 盒曲奇餅有 16 個，媽媽買了 3 盒，共有幾個曲奇餅？
24. 觀察下列數字的排列方法，推算 ? 上的數字，然後把答案寫在橫線上。
100、200、400、?、1600、3200
25. 媽媽給叮噹 52 元，爸爸又給叮噹 33 元，叮噹買了一盒 38 元的豆沙餅後，還剩下幾元？
26. 小新買一盒 61 元的彩色筆和一盒 28 元的粉蠟筆，小新付 100 元，可找回多少元？
27. 填上相等的數值。(+ 、 - 、 x 、 ÷ 或數字)
 $15 \div 5 = (?) \times (?)$
28. 涼亭在燒烤場的_____方。
- The diagram shows a central north-south axis with an arrow pointing up labeled '北' (North). To the left of the axis are two icons: a forest labeled '森林' and a pavilion labeled '涼亭'. To the right of the axis are two icons: a BBQ area labeled '燒烤場' and an amusement park labeled '遊樂場'.
29. 
- 上圖由_____體和_____體組成。
30. 永康每天步行 400 米到中環靜坐，問他一星期共走了多少米？

20. _____

21. _____

22. _____

23. _____

24. _____

25. _____

26. _____

27. _____

28. _____

29. _____

30. _____